



Übungen zur Uhrzeit


1. Trage die Uhrzeit ein:




_____ Uhr




_____ Uhr



_____ Uhr



_____ Uhr




_____ Uhr


2. Wie viel Zeit ist vergangen? Notiere die Uhrzeit und berechne die Zeitdauer.



_____ Uhr



_____ Uhr



_____ Uhr



_____ Uhr

3. Notiere die fehlende Angabe in die Tabellen.

Anfang	Dauer	Ende
10.00Uhr		13Uhr
14.15Uhr		15.25Uhr
5.40Uhr		12.25Uhr
21.10Uhr		23.40Uhr
8.20Uhr		17.10Uhr

Anfang	Dauer	Ende
6.00Uhr	8h	Uhr
8.15Uhr	4h15min	Uhr
23.30Uhr	1h15min	Uhr
12.30Uhr	4h	Uhr
6.35Uhr	2h45min	Uhr