

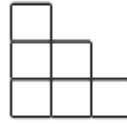


Tägliche Übung Kl. 5

1. $435 + 75 =$
2. $1000 - 12 : 3 =$
3. $5,2 \text{ cm} + 3 \text{ mm} =$
4. $12 \text{ kg} - 4,2 \text{ kg} =$
5. Welche Größenangaben könnten stimmen?
Entscheide mit wahr oder falsch.
 - a) Die Zimmertür ist 2000 mm hoch .
 - b) Ein Neugeborenes wiegt 30,6 kg.

6. Runde auf Hunderter. 5635
7. Vermindere das Dreifache von 80 um 150.

8. Die folgenden Figuren sind mit Streichhölzern gelegt.

1. Figur	2. Figur	3. Figur	4. Figur
			

- a) Wie viele Streichhölzer hat die dritte Figur?
- b) Aus wie vielen Quadraten besteht die 4. Figur?
9. Ordne die Zahlen. Beginne mit der Größten.
432 000 532 000 423 000 523 000
10. Wie viel Tonnen sind das Sechsfache von 500 Kilogramm?
11. Zu welchen geometrischen Körpern gehören diese Netze?

