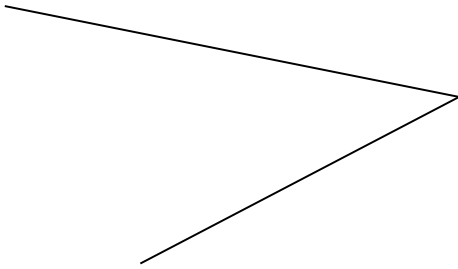
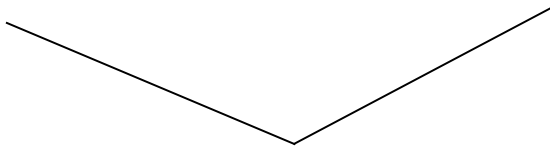


Schätze zuerst die Größe des Winkels und miss erst dann genau!




geschätzt: _____

gemessen: _____



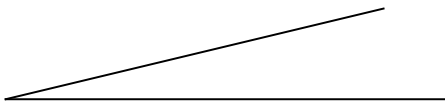
geschätzt: _____

gemessen: _____



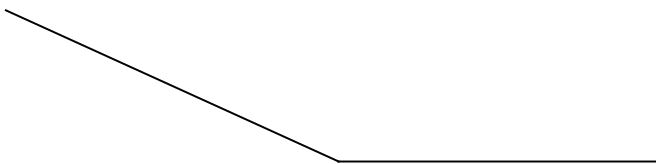
geschätzt: _____

gemessen: _____



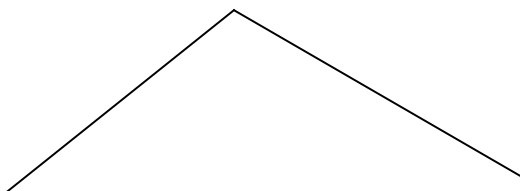
geschätzt: _____

gemessen: _____



geschätzt: _____

gemessen: _____



geschätzt: _____

gemessen: _____