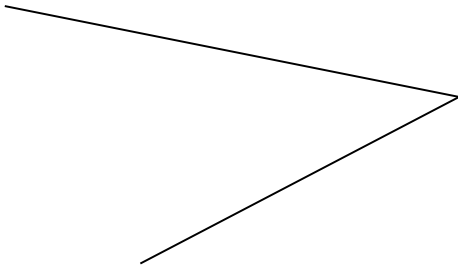
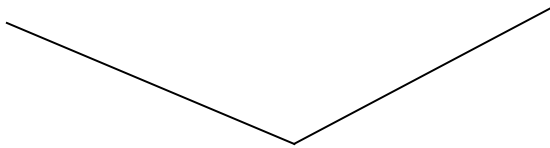


Schätze zuerst die Größe des Winkels und miss erst dann genau!




geschätzt: _____

gemessen: _____



geschätzt: _____

gemessen: _____



geschätzt: _____

gemessen: _____



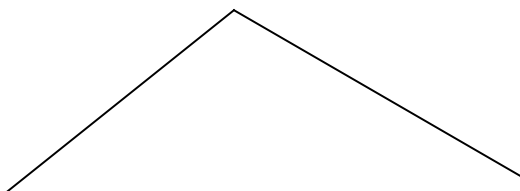
geschätzt: _____

gemessen: _____



geschätzt: _____

gemessen: _____

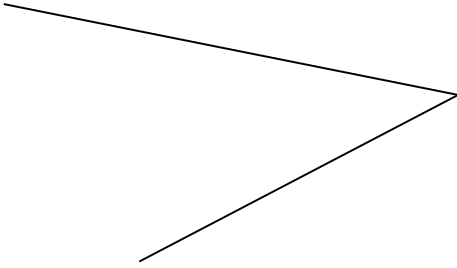


geschätzt: _____

gemessen: _____

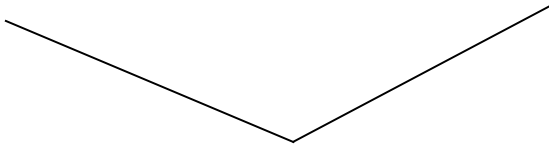
Lösung:

Schätze zuerst die Größe des Winkels und miss erst dann genau!




geschätzt: _____

gemessen: 40°



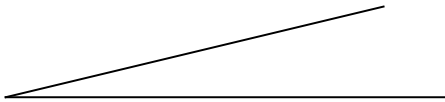
geschätzt: _____

gemessen: 135°



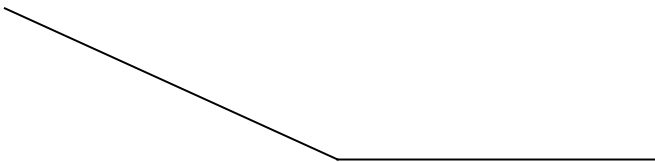
geschätzt: _____

gemessen: 82°



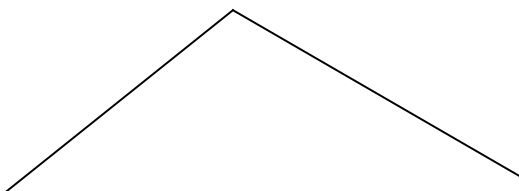
geschätzt: _____

gemessen: 14°



geschätzt: _____

gemessen: 155°



geschätzt: _____

gemessen: 111°