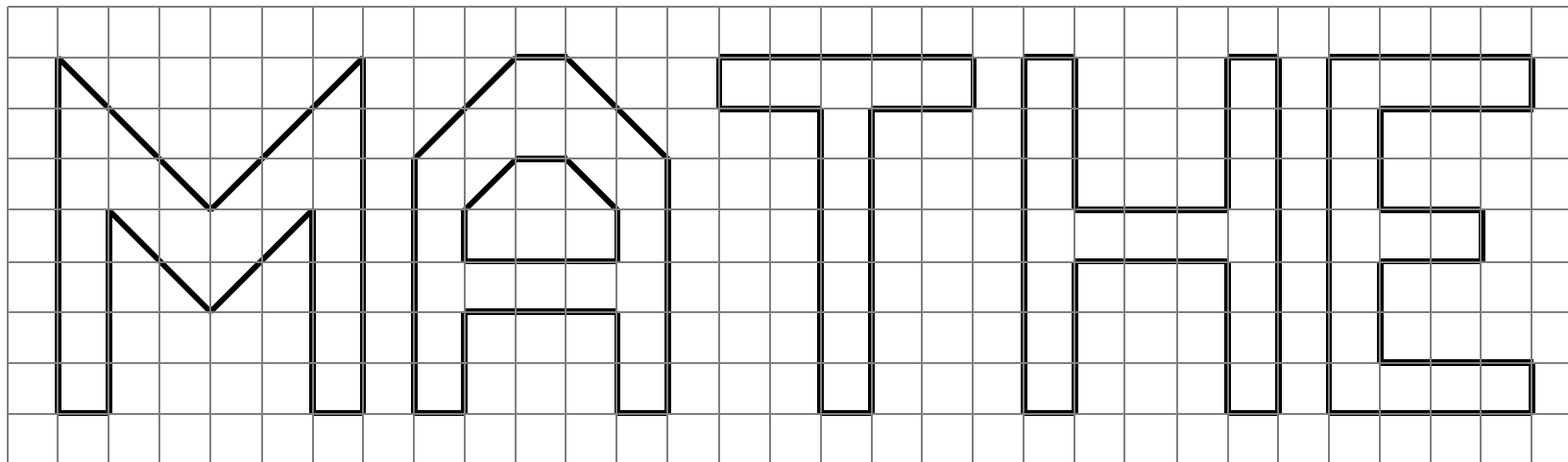


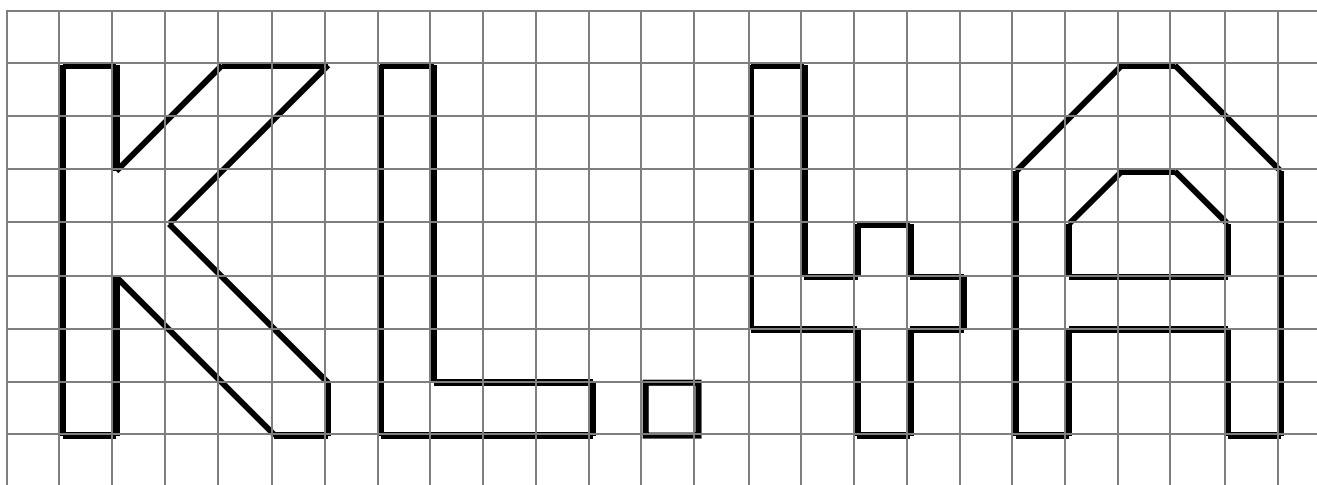
Kästchen auszählen – Lass bitte nur das Blatt für deine Klasse ausdrucken!

K4/B38

Zähle bei jedem Buchstaben die Anzahl der Kästchen aus. Notiere deine Ergebnisse in der Tabelle und addiere!
Achtung: Es sind keine Zentimeterquadrate. Du zählst nur die Anzahl der Kästchen aus.



Buchstabe	Anzahl
M	<input type="checkbox"/> _____
A	<input type="checkbox"/> _____
T	<input type="checkbox"/> _____
H	<input type="checkbox"/> _____
E	<input type="checkbox"/> _____
Gesamt:	<input type="checkbox"/> _____

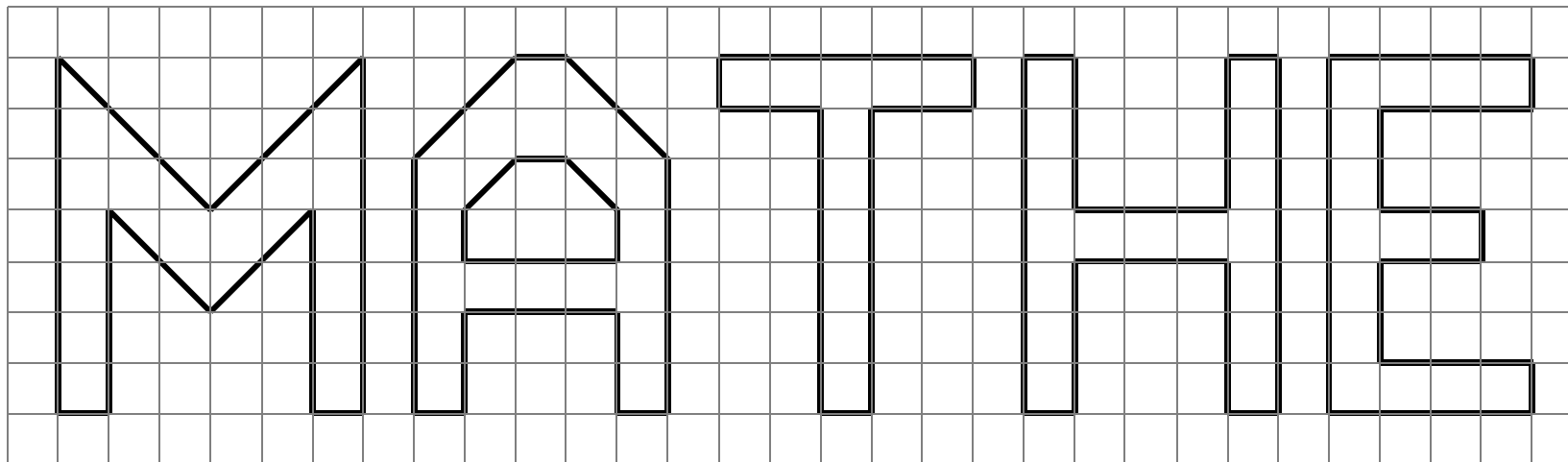


Buchstabe	Anzahl
K	<input type="checkbox"/> _____
L	<input type="checkbox"/> _____
.	<input type="checkbox"/> _____
4	<input type="checkbox"/> _____
A	<input type="checkbox"/> _____
Gesamt:	<input type="checkbox"/> _____

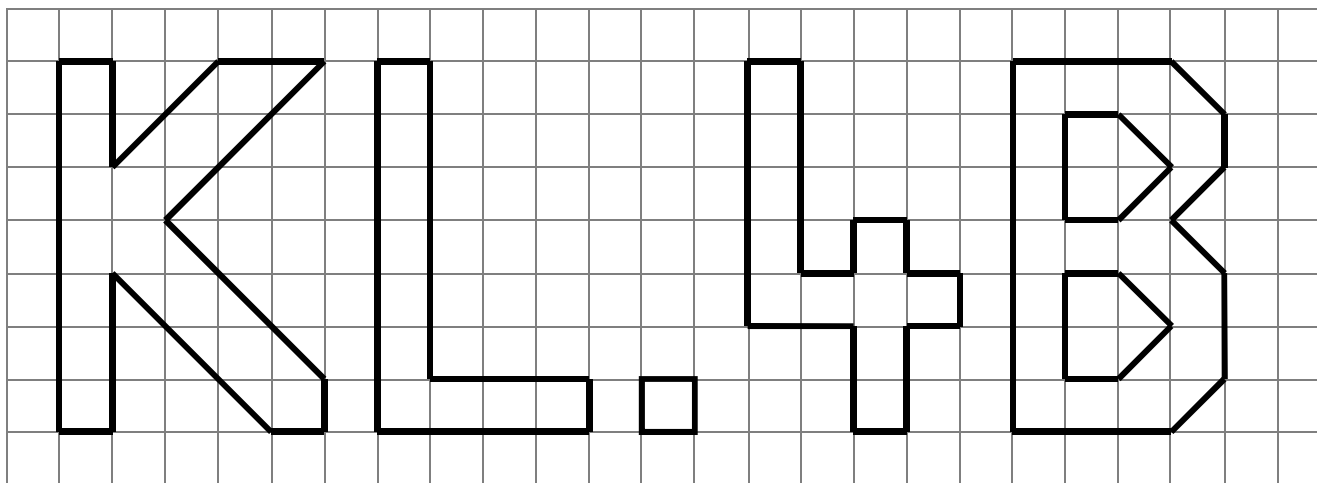
Kästchen auszählen – Lass bitte nur das Blatt für deine Klasse ausdrucken!

K4/B38

Zähle bei jedem Buchstaben die Anzahl der Kästchen aus. Notiere deine Ergebnisse in der Tabelle und addiere!
Achtung: Es sind keine Zentimeterquadrate. Du zählst nur die Anzahl der Kästchen aus.



Buchstabe	Anzahl
M	<input type="checkbox"/> _____
A	<input type="checkbox"/> _____
T	<input type="checkbox"/> _____
H	<input type="checkbox"/> _____
E	<input type="checkbox"/> _____
Gesamt:	<input type="checkbox"/> _____



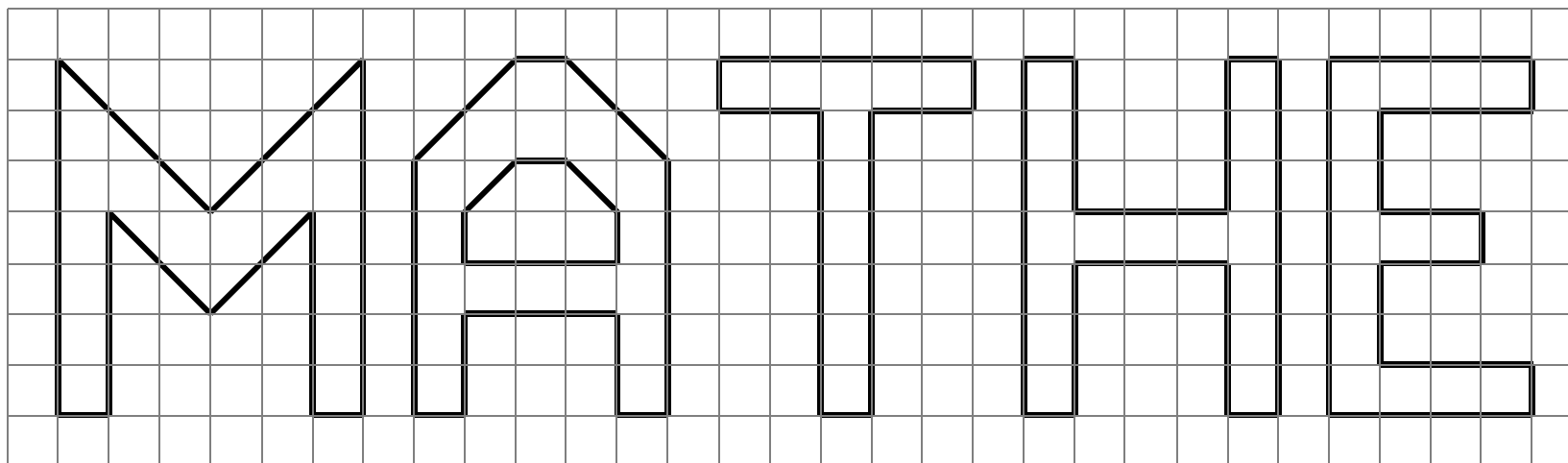
Buchstabe	Anzahl
K	<input type="checkbox"/> _____
L	<input type="checkbox"/> _____
.	<input type="checkbox"/> _____
4	<input type="checkbox"/> _____
B	<input type="checkbox"/> _____
Gesamt:	<input type="checkbox"/> _____

Kästchen auszählen – Lass bitte nur das Blatt für deine Klasse ausdrucken!

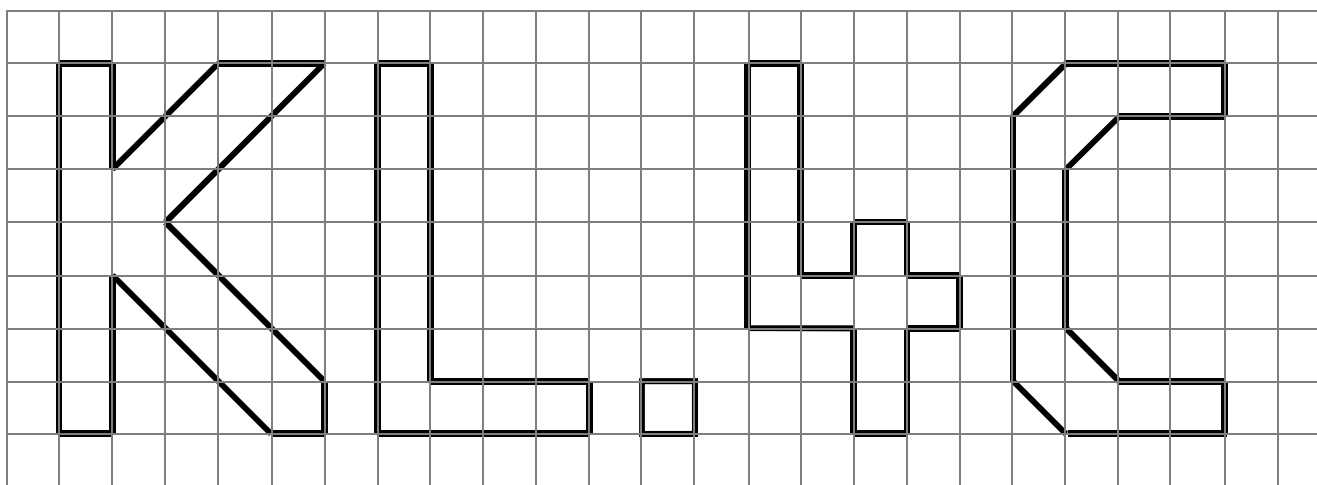
K4/B38

Zähle bei jedem Buchstaben die Anzahl der Kästchen aus. Notiere deine Ergebnisse in der Tabelle und addiere!

Achtung: Es sind keine Zentimeterquadrate. Du zählst nur die Anzahl der Kästchen aus.



Buchstabe	Anzahl
M	<input type="checkbox"/> _____
A	<input type="checkbox"/> _____
T	<input type="checkbox"/> _____
H	<input type="checkbox"/> _____
E	<input type="checkbox"/> _____
Gesamt:	<input type="checkbox"/> _____



Buchstabe	Anzahl
K	<input type="checkbox"/> _____
L	<input type="checkbox"/> _____
.	<input type="checkbox"/> _____
4	<input type="checkbox"/> _____
C	<input type="checkbox"/> _____
Gesamt:	<input type="checkbox"/> _____